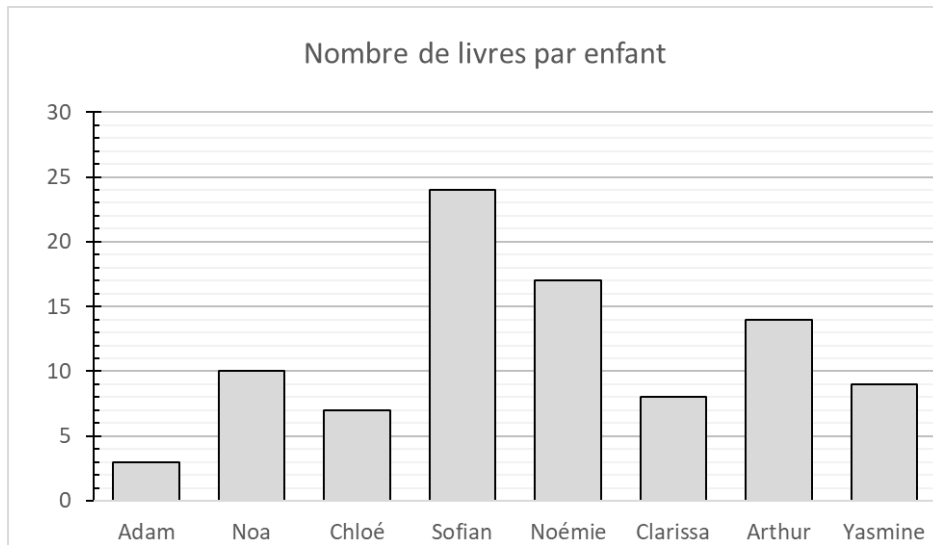


Lire un graphique - fiche d'exercices

Exercice 1

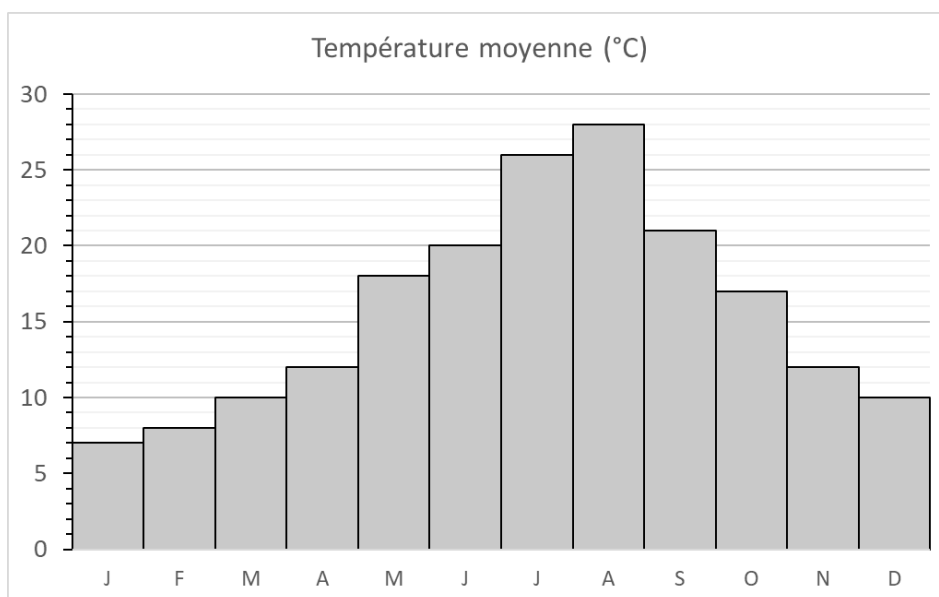


Aujourd'hui, les enfants du groupe de lecture font le point sur le contenu de leur bibliothèque personnelle.

- Combien de livres Noémie possède-t-elle dans sa bibliothèque ?
- Quel enfant possède le plus grand nombre de livres ?
- Quel enfant possède le plus petit nombre de livres ?
- Les enfants décident de mettre leurs livres en commun. Combien de livres y aura-t-il dans la bibliothèque commune ?

Exercice 2

Le graphe ci-dessous indique la température moyenne mensuelle (en degrés Celsius) à Marseille.

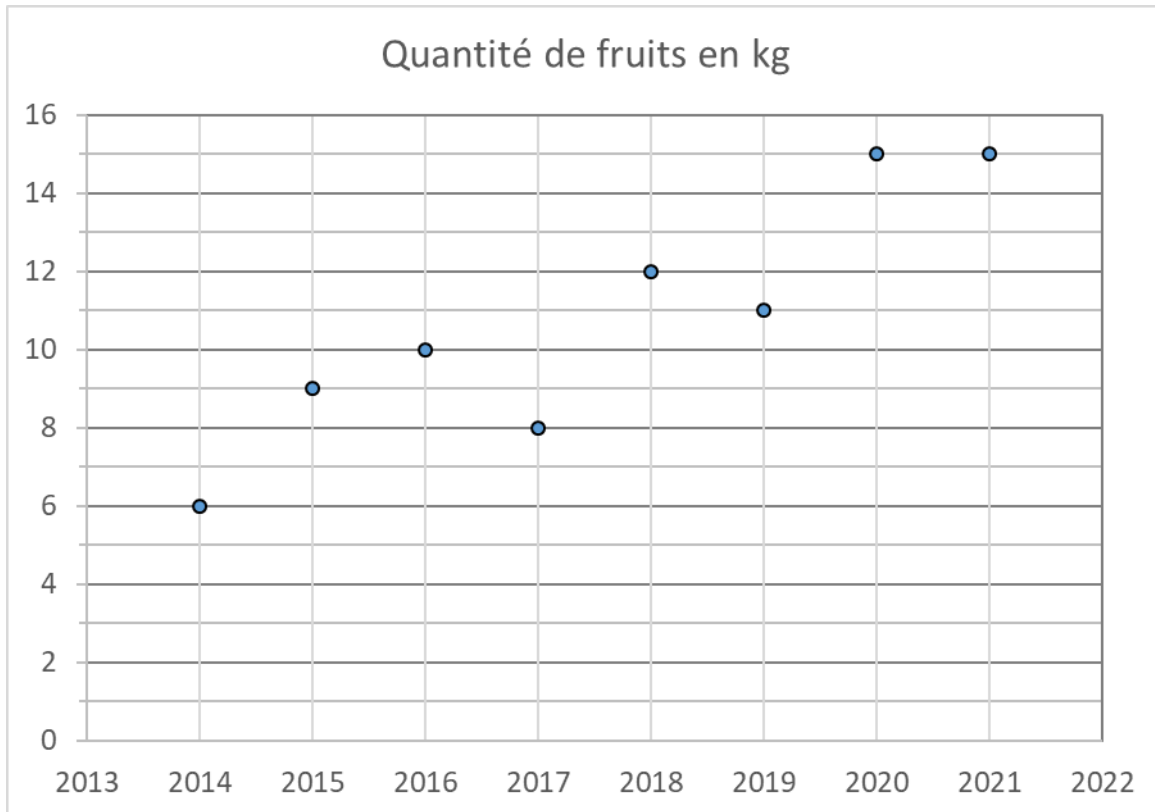


(J = janvier, F = février, ..., D = décembre)

Lire un graphique - fiche d'exercices

- Quelle est la température moyenne la plus élevée de l'année ?
- Quel est le mois de l'année durant lequel la température moyenne est de 17°C ?
- Quels sont les mois de l'année durant lesquels la température moyenne est supérieure à 15°C ?

Exercice 3



Chaque année, les grands-parents d'Emma notent dans un carnet la quantité de fruits (en kilogrammes) produite par leur verger.

- En quelle année le verger a-t-il produit 10 kg de fruits ?
- Quelle quantité de fruits le verger a-t-il produit en 2018 ?
- Quelles sont les années durant lesquelles la quantité de fruits produite était inférieure à la quantité produite l'année précédente ?